



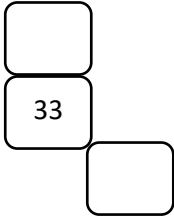


Ich kann...	Beispiele
<p>im Zahlenraum 100 addieren, subtrahieren, multiplizieren und dividieren.</p> <p style="text-align: center;">  </p>	<p>Im Buch: S. 6, 7, 10, 12</p> <p> $36 + 8 =$ $90 - 6 =$ $7 \cdot 8 =$ $21 : 3 =$ </p>
<p>eine Skizze zeichnen, rechnen und antworten.</p> <p style="text-align: center;">  </p>	<p>Im Buch: S. 5</p> <p>Zeichne eine Skizze, rechne und antworte!</p> <p>Pepe taucht 6 m weit. Franka taucht noch 3 m weiter.</p> <div style="border: 1px solid black; height: 40px; width: 100%;"></div> <p>Rechnung: _____</p> <p>Antwort: _____</p>
<p>Fragen einer Sachrechenaufgabe zuordnen, rechnen und antworten.</p> <p style="text-align: center;">  </p>	<p>Im Buch: S. 4 (auch: Arbeitsblatt dazu)</p> <p>Welche Frage passt? Kreuze an, rechne und antworte.</p> <div style="border: 1px solid green; padding: 5px; margin-bottom: 10px;"> <p>Spaßbad Welle 2-Stunden-Karte: Erwachsene 9 Euro Kinder 5 Euro</p> </div> <p>Frau Peters geht mit ihrer Freundin und deren beiden Kindern ins Spaßbad.</p> <p>A Wie viel Geld bekommen sie zurück? B Wie teuer ist der Eintritt für alle? C Wann waren sie wieder zu Hause?</p> <p>Rechnung: _____</p> <p>Antwort: _____</p>
<p>eine Sachaufgabe bearbeiten.</p> <p style="text-align: center;">  </p>	<p>In einen Korb passen 6 Äpfel. Am Apfelbaum hängen 42 Äpfel.</p> <p>a. Wie viele Körbe braucht man für alle Äpfel?</p> <p>Rechnung: _____</p> <p>Antwort: _____</p>

<p>fehlende Zahlen in Ausschnitte aus dem Hunderterfeld eintragen.</p>	<p>Arbeitsblätter</p> 
<p>Punktrechnung vor Strichrechnung.</p>	<p>Im Buch, S. 16</p> $35 + 7 \cdot 2 = 35 + 14 = 49$ <p>Löse richtig. Schreibe den Zwischenschritt mit.</p> $22 + 8 \cdot 3 =$ $100 - 42 : 7 =$
<p>Das will ich noch üben:</p>	